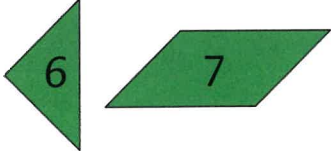

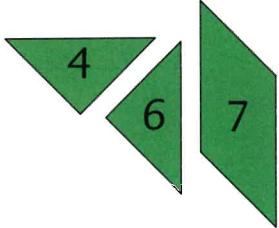



# 練習 23

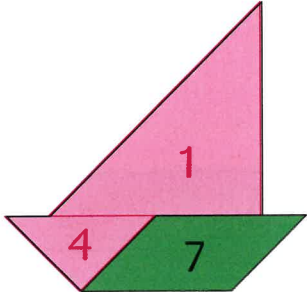
完成課業 2 可解答題 1 至 4。

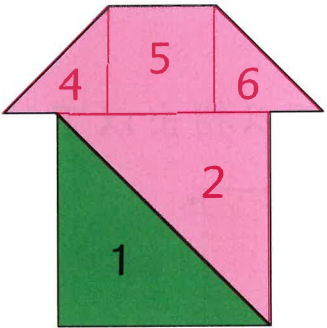
依指示利用卡紙頁的七巧板拼一拼，然後從貼紙頁 4 取出七巧板貼紙，把拼砌結果貼在各圖中，並填一填。

① 用 ，拼成  四邊 形。  
或其他合理答案

② 用 ，拼成  長方 形。  
或其他合理答案

從貼紙頁 4 取出七巧板貼紙，完成下列各圖。

③  船。  
或其他合理答案


④  屋。  
或其他合理答案


這幅圖像 船。


這幅圖像 屋。

完成課業 3 可解答題 5 至 8。

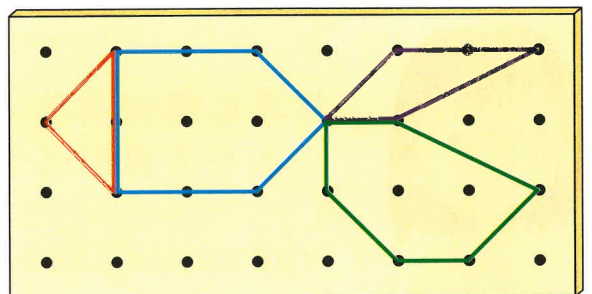
看看右圖，回答問題。

⑤ 用  圍出的是 三角 形。

⑥ 用  圍出的是 五邊 形。

⑦ 用  圍出的是 四邊 形。

⑧ 用  圍出的是 六邊 形。



1

三角形      四邊形      五邊形      六邊形      圓形

■ 我明白了

2 正方形和長方形都是四邊形。

正方形      長方形

■ 我明白了

3 七巧板共有 7 塊圖形板，可用來拼砌不同的圖形。

4 6 三角形

3 7 四邊形

■ 我明白了

### 概念小測試

圈出下列各題中不同類的圖形。

①

②


③

# 單元綜合應用練習




姓名：\_\_\_\_\_

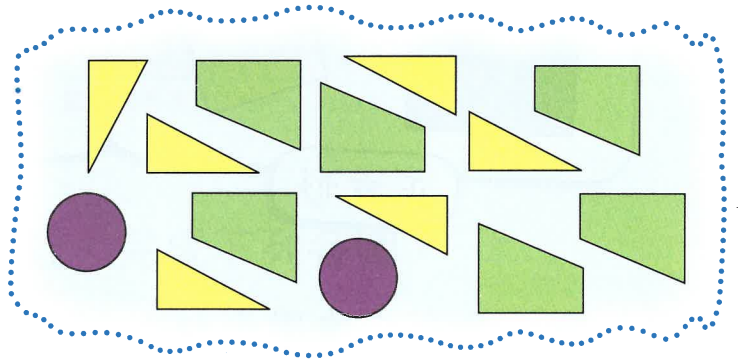
班別：\_\_\_\_\_ ( )




① 右圖中有 10 個六邊形。



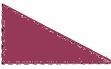













② 看看右圖，回答問題。









- (a)  是 圓 形，  
 是 三角 形，  
 是 四邊 形。



(b) 從貼紙頁 3 取出所有的 、 和  圖，以一對一排列貼在空格內。

(c) 下列哪一項是正確的？

- A.  比  多。
- B.  比  多。
- C.  比  少。
- D.  和  的數量相同。

